


QUESITO A RISPOSTA SINTETICA N. 1
(rispondere in un massimo di 20 righe, punteggio da 0 a 6 punti)


Il candidato illustri le procedure di affidamento lavori per contratti sotto soglia.

Handwritten signature in black ink, appearing to be 'M. P. L. B.' with a stylized flourish.

QUESITO A RISPOSTA SINTETICA N. 2

(rispondere in un massimo di 20 righe, punteggio da 0 a 6 punti)

Il candidato indichi gli obblighi del coordinatore della sicurezza in fase di progettazione lavori e ne illustri sinteticamente i contenuti.

The image shows several handwritten signatures in black ink. There are approximately five distinct signatures, some appearing as simple initials and others as more complex cursive or stylized names.

QUESITO A RISPOSTA SINTETICA N. 3

(rispondere in un massimo di 20 righe, punteggio da 0 a 6 punti)

Il candidato illustri il campo di applicazione delle norme di prevenzione incendi, e sinteticamente le principali caratteristiche costruttive da prevedere ai fini della progettazione di un edificio destinato ad uffici.

A handwritten signature in black ink, consisting of several stylized, overlapping loops and lines, located at the bottom left of the page.


QUESITO A RISPOSTA SINTETICA N. 4

(rispondere in un massimo di 20 righe, punteggio da 0 a 6 punti)

Data una trave appoggio-appoggio di lunghezza L e soggetta ad un carico concentrato P posto ad $\frac{1}{4}$ della luce dall'appoggio di destra si valuti:

- Il momento massimo nella trave
- Il taglio massimo

Si disegnino inoltre i diagrammi del taglio e del momento.



QUESITO A RISPOSTA SINTETICA N. 5

(rispondere in un massimo di 20 righe, punteggio da 0 a 6 punti)

Il candidato illustri la classificazione degli interventi strutturali su edifici esistenti.

A handwritten signature in black ink, consisting of stylized cursive letters, possibly reading 'M. P. B.' or similar.